


3. Zapisz ile kilogramów ważą wszystkie owoce




4. Zamień kilogramy na tony i zapisz odpowiedź.



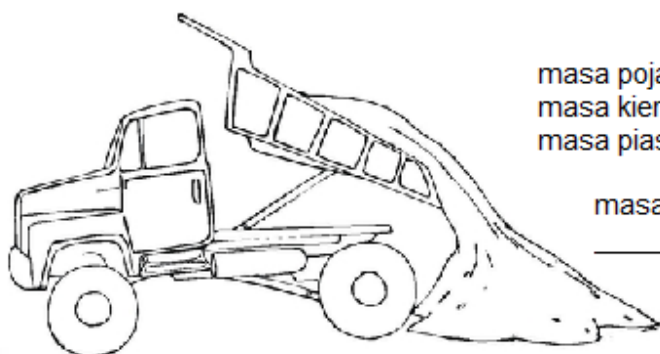
Ćwiczenie 3. Przy drodze znajduje się znak. Zakazuje on wjazdu pojazdów o masie całkowitej ponad 10 ton.

Przeczytaj informacje zawarte obok obrazków, oblicz masę całkowitą pojazdów i zapisz ją w tonach. Pokoloruj tylko te pojazdy, które mogą wjechać na most.



masa pojazdu: 1140 kg
masa kierowcy: 60 kg
masa pasażerów: 350 kg

masa całkowita:



masa pojazdu: 7100 kg
masa kierowcy: 80 kg
masa piasku: 6500 kg

masa całkowita:



masa pojazdu: 3550 kg
masa kierowcy: 75 kg
masa pasażerów: 100 kg
masa bagaży: 80 kg

masa całkowita:
