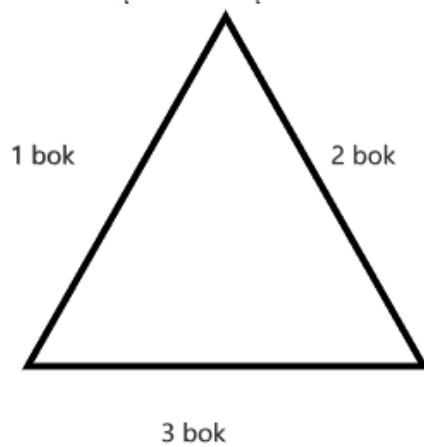


# FIGURY GEOMETRYCZNE

## 1. TRÓJKĄT

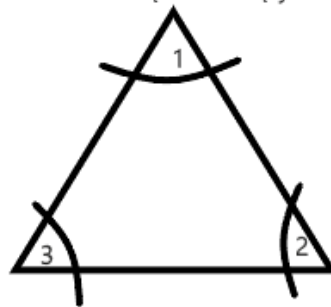
TRÓJKĄT to wielokąt o 3 bokach.



TRÓJKĄT ma 3 wierzchołki.

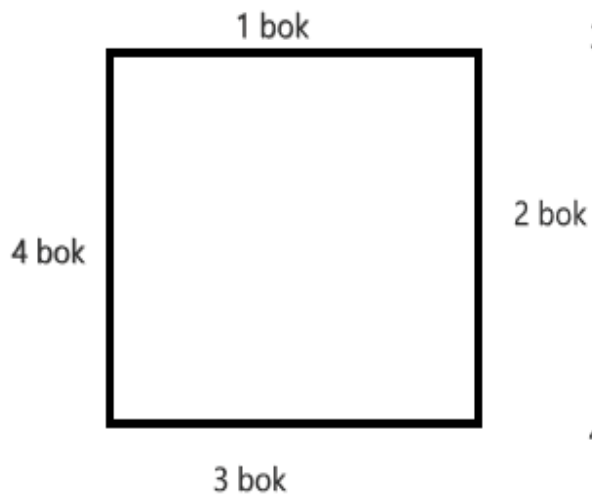


TRÓJKĄT ma 3 kąty.

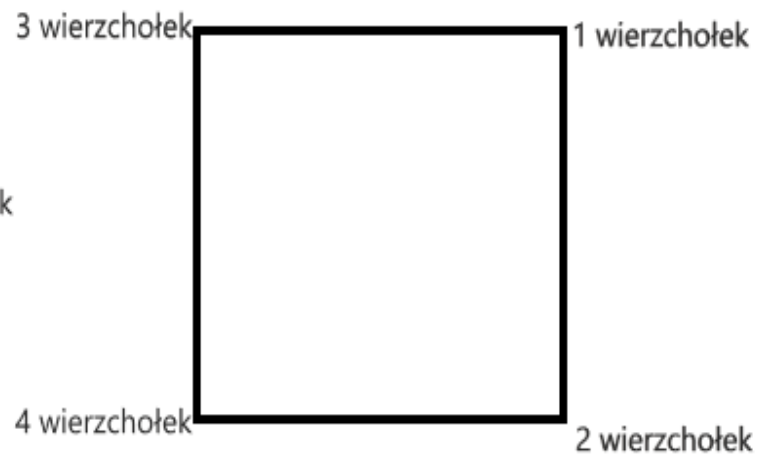


## 2.KWADRAT

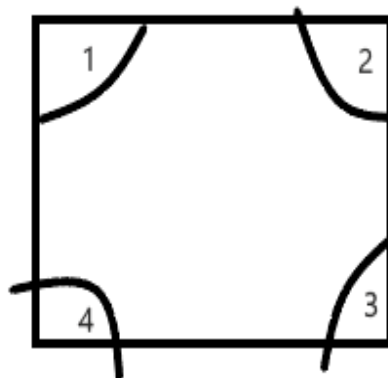
KWADRAT to wielokąt o 4 bokach.



KWADRAT ma 4 wierzchołki



KWADRAT ma 4 kąty




# 3.PROSTOKĄT

PROSTOKĄT to wielokąt o 4 bokach



PROSTOKĄT ma 4 wierzchołki



PROSTOKĄT ma 4 kąty.



ZADANIE 1.

ZAZNACZ CZERWONYM KOLOREM TRÓJKĄTY, ZIELONYM KWADRATY, NIEBIESKIM PROSTOKĄTY.

