


Spróbuj odgadnąć regułę i dorysuj na końcu trzy kolejne figury:


a)



b)

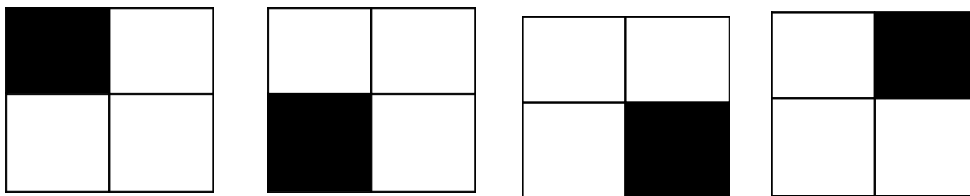


c)



---

Przyjrzyj się poniższym czterem figuram.



Popatrz teraz na rząd poniżej. Znajdź regułę.

Która z nich pasuje w miejsce znaku zapytania?

