
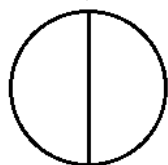


**Ćwiczenie 1.** Połącz podane nazwy z właściwym obrazkiem. Figury przecięte na pół pokoloruj na czerwono. Figury przecięte na ćwiartki pokoloruj na zielono.



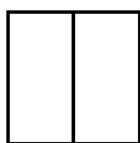
Połowa koła

Ćwierć koła




Połowa gwiazdy

Ćwierć gwiazdy



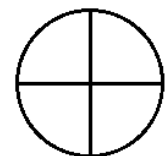
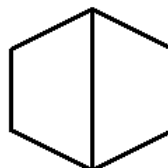

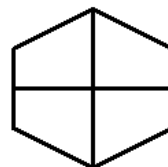
Połowa sześcioboku

Ćwierć sześcioboku



Połowa kwadratu

Ćwierć kwadratu



**Ćwiczenie 2.** Wpisz w puste okienka właściwą odpowiedź.

Ćwierć liczby 24 to:	
Połowa liczby 50 to:	
Ćwierć liczby 16 to:	
Połowa liczby 20 to:	
Ćwierć liczby 8 to:	
Połowa liczby 44 to:	

Pamiętaj!

Aby obliczyć połowę pewnej liczby, należy ją podzielić przez 2.

Aby obliczyć ćwierć pewnej liczby, należy ją podzielić przez 4.