

Zadanie 1.

Przeczytaj opis krajobrazu oraz przyjrzyj się ilustracjom.

Podpisz właściwymi literami pamiętając, że:

**A** – krajobraz NATURALNY

**B** – krajobraz kulturowy ROLNICZY

**C** - krajobraz kulturowy PRZEMYSŁOWY

**D** - krajobraz kulturowy MIEJSKI

Silnie przekształcony krajobraz naturalny (hałdy, kamieniołomy, doły, usypiska) charakterystyczne budowle i urządzenia, dymiące kominy.

Po drugiej stronie rzeki wznosi się małe wzgórze, na którym rośnie kilka drzew, a wśród nich, na samym szczycie wzgórza, ogromny rozłożysty dąb. Przed zakrętem rzeki utworzył się mały wodospad. Za wodospadem, leży powalone drzewo, które tworzy „most” przez rzekę.


Krajobraz składa się ze stojących w otoczeniu domów, chodników, trawników, małego parkingu, placu zabaw oraz ulicy. W oddali widnieje kopuła kościoła oraz nowoczesne biurowce.

Znajduje się piaszczysta drogę oraz ciągnące się pola. Większość z nich zasiana jest zbożem, na innych uprawia się ziemniaki. W oddali widać jak rosną inne warzywa.



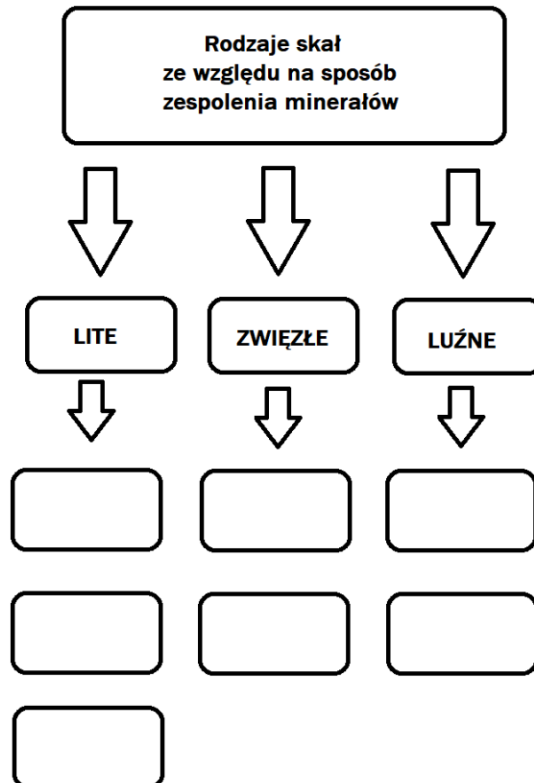
Zadanie 2.

Przekrój gleby – podpisz poszczególne warstwy:



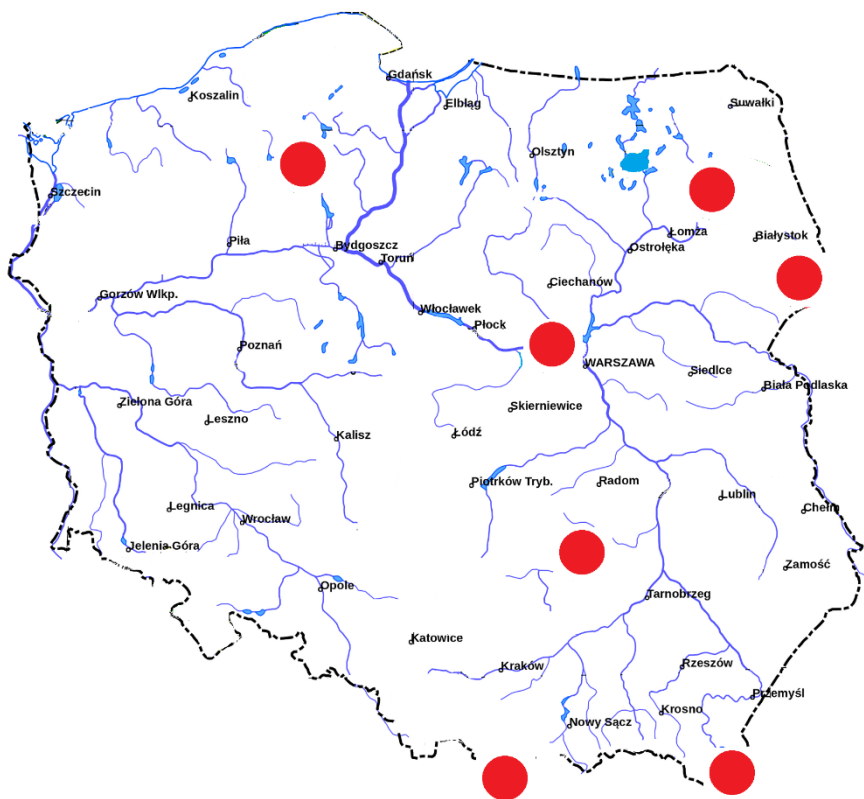
Zadanie 3

Uzupełnij:



Zadanie 4.

Podpisz Parki Narodowe zaznaczone na mapie. Połącz Park Narodowy z jego logo.



1. Świętokrzyski Park Narodowy
2. Tatrzański Park Narodowy
3. Białowiecki park narodowy
4. Kampinoski park narodowy
5. Bieszczadzki Park Narodowy
6. Park Narodowy „Bory Tucholskie”
7. Biebrzański park narodowy

